

8 SINIF

LGS

5'li



TAMAMI VIDEO ÇÖZÜMLÜ

DENEME SINAVI

YENİ TARZ
YAYINLARI

1.

	1	2	3	4	5	6	7
1	Belirti, emare →			Yeryüzü toprak parçası ↓	Dilsiz ↓	Yılın 10.ayı ↓	
2	Arazi, tarla ↓	Yüksek duvarlı büyük yapı →	●				
3				●			Taşınır ya da taşınmaz varlık,mülk ↓
4			Bilgin →		●		
5	Dik olmayan →					●	
6	Buhran, bunalım →						

Bu bulmacada “ ● ” işareti ile gösterilen yerlere sırası ile aşağıdakilerden hangisi getirilmelidir?

- A) K M R L
- B) S Z M L
- C) K R L M
- D) A S H M

2.



Birinci Dünya Savaşı sonrası yapılan antlaşmalar ile Osmanlı Devleti fiilen sona ermiştir. Mütareke döneminde, Anadolu'da ve Rumeli'de oluşan otorite boşlukları; halkı, kurtuluş, himaye, mandacılık, bağımsızlık gibi düşüncelere sevk etmiştir. Bu düşünceler doğrultusunda amaçlarını gerçekleştirmek isteyen halk Osmanlı topraklarında çeşitli cemiyetler kurmuştur.

Buna göre haritada verilen Mondros Ateşkes Antlaşması sonrası kurulan cemiyetleri ile ilgili olarak;

- I. Bölgesel nitelik taşırlar.
- II. Millî varlığa düşman olan cemiyetlerdir.
- III. İşgal güçleri, azınlık çeteleri ve İstanbul Hükümeti ile mücadele etmişlerdir.
- IV. İşgallerin haksızlığını basın, yayın ve hukuk yoluyla dünyaya anlatma amacındadırlar.

gibi yargılardan hangisi söylenebilir?

- A) I ve II. B) III ve IV. C) I, II ve III. D) I, III ve IV.

3.

Kuvâ-yı Millîye, Anadolu'nun Yunan, İngiliz, Fransız, İtalyan ve Ermeni birliklerince işgal edildiği ve Mondros Mütarekesi ile ağır koşulların dayatıldığı dönemde çeşitli yörelerde Osmanlı ordusunun silahlarının alınıp dağıtıldığı günlerde oluşmaya başlayan sivil ve askerlerin gönüllü olarak katıldığı Türk silahlı direniş güçleridir. Türk Kurtuluş Savaşı'nın ilk savunma birimleri olan çete görünümündeki bu direniş güçleri batıda Yunan ordusu ve Rum çetelerine, güney cephesinde Fransız ordusuna ve Ermeni çetelerine karşı mücadele etmişlerdir. Düşmanın ilerleyişini yavaşlatıp, oyalayan bu direniş kuvvetlerinin büyük bir kısmı zamanla düzenli orduya katılmıştır.

Kuvâ-yı Millîye ile ilgili verilen bu bilgilerden yararlanarak aşağıdaki yargılardan hangisine ulaşamaz?

- A) Bölgesel direniş örgütleridir.
- B) Toplumun farklı kesiminden insanların katılımıyla oluşmuştur.
- C) Askeri disiplin içinde tek elden komuta edilmiştir.
- D) İhtiyaçlarının önemli bir kısmı yerel halk tarafından karşılanmıştır.

1.

Mekkeli müşrikler, Hz. Muhammed'e inanılmaz zulümler yapmışlar, onu Medine'ye göç etmek zorunda bırakmışlardır. Yaklaşık dokuz yıl sonra Müslümanlar çoğalıp güçlenmiş ve kurdukları orduyla Mekke'yi fethetmişlerdir. Mekke fethedildiğinde Hz. Muhammed (s.a.v.) daha önce kendisine zulmedenleri affetmişti. Hiç kimseye karşı kendi nefsi adına kin gütmemişti. O insanların bile iman edip cehennem ateşinden kurtulmaları için adeta mücadele ediyordu.

Aşağıdaki ayetlerden hangisi Hz. Muhammed'in (s.a.v.) metinde anlatılan özelliğine örnek olabilir?

- A) "Ey Muhammed! Biz seni ancak âlemlere rahmet olarak gönderdik." (Enbiya suresi, 107. ayet)
- B) ".....sen ancak bir uyarıcısın. Allah ise her şeye vekildir." (Hud suresi, 12. ayet)
- C) "(İnsanların bir kısmı, ulaştırdığın mesaja) inanmıyorlar diye (üzüntüden) neredeyse kendini tüketeceksin!" (Şuara suresi, 3. ayet)
- D) "Muhammed, ancak bir peygamberdir. Ondan önce de peygamberler gelip geçmiştir." (Ali İmran suresi, 144. ayet)

2.

İstanbul'da çok önemli bir iş toplantısına yetişmesi gereken Erol Bey, sabah uyanamadığı için uçağını kaçırdı. Otobüsle gitmesi halinde geç kalacağını anlayan Erol Bey kendi aracıyla gitmeye karar verdi. Otomobiliyle İstanbul'a doğru yola çıkan Erol Bey Gerede yakınlarında aşırı hız nedeniyle virajı alamadı ve şarampole yuvarlandı. Erol Bey kazada ağır yaralandı ve hastanede tedavi altına alındı. Yetişmek istediği toplantıya da katılamadı.

Metinde anlatılan olayla ilgili aşağıdakilerden hangisi söylenemez?

- A) Erol Bey tedbirsiz davranmış ve önce uçağı kaçırmış, sonra da kaza yapmıştır.
- B) Erol Bey'in aşırı hız yapması kendi tercihidir. Kaza yapması tamamen kendi sorumluluğundadır.
- C) Erol Bey trafik kurallarına uyararak aşırı hız yapmasaydı, kaza yapmayabilir, gecikse bile toplantısına yetişebilirdi.
- D) Erol Bey'in kaderinde kaza yapmak varmış. Önlem alsaydı ve hız yapmasaydı bile kaza yapması kaçınılmazdır.

3. Aşağıdaki ayetlerden hangisi Kur'an'ın, malın korunmasına yönelik yaptığı bir uyarı içerir?

- A) "Ey kendilerine kötülük edip aşırı giden kullarım! Allah'ın rahmetinden umudunuzu kesmeyin." (Zümer suresi, 53. ayet)
- B) "Ey inananlar, mallarınızı aranızda haksızlıkla yemeyin." (Nisa suresi, 29. ayet)
- C) "İyilikle kötülük bir değildir. Kötülüğü iyilikle sav. Bir de bakmışsın ki seninle arasında düşmanlık olan kişi, dostun oluvermiş." (Fussilet suresi, 34. ayet)
- D) "İşte onlara, sabretmelerinden ötürü, mükâfatları iki defa verilecektir." (Kasas suresi, 54. ayet)

Answer questions 1-2 according to the paragraph below.

My name is Clara and I am 22 years old. Wendy is my cousin and she is also my best friend. We do everything together. She always keeps my secrets and we never lie to each other. When I feel bad, she always listens to me and makes me laugh. Sometimes we disagree with each other, but we never fight. We always share our clothes, books and CDs.

We love music and dancing. We always go to concerts together. We sometimes meet our friends and have dinner with them after school. Our homes are close, so we often stay at each other's house. We go to the same school and we take the same school bus, so we are always together.

She hates cooking but I love it, so I cook for her and she cleans up the kitchen. We always share our chores too. I'm so lucky to have such a good friend. I hope we will still be together when we are old!



1. According to the text, which of the following is NOT CORRECT?

- A) Clara and Wendy are relatives and close friends. B) Wendy is a caring friend.
C) They don't always agree with each other. D) They live in the same house.

2. According to Clara, Wendy is a/an ---- person.

- A) aggressive B) sneaky C) reliable D) adventurous

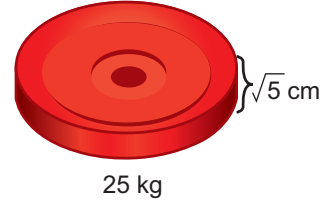
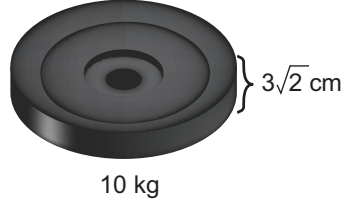
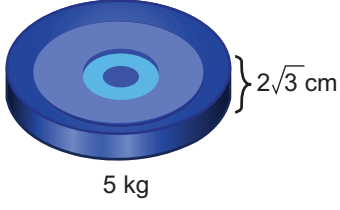
3. The table below shows Betty's weekly routine.

	Monday	Tuesday	Wednesday	Thursday	Friday	Saturday	Sunday
Listening to music	✓	✓	✓	✓	✓	✓	✓
Playing video games	✓		✓			✓	
Walking the dog							
Shopping	✓						

According to the information, which of the following sentences is NOT CORRECT?

- A) Betty goes shopping twice a week.
B) Betty never walks her dog.
C) Betty always listens to music.
D) Betty often plays video games.

1. Bir spor salonunda ağırlıkları ve renkleri farklı aşağıdaki plakalarından yeterli sayıda vardır.



Bir spor aletine bu ağırlıklardan takıp çalışacak olan Serhat, aşağıdaki gibi üç farklı dizilim yapıyor.



Buna göre A, B ve C dizilimlerinde ağırlıkların oluşturduğu yüksekliklerin doğru sıralanışı aşağıdakilerden hangisinde doğru olarak verilmiştir?

A) $A > C > B$

B) $A > B > C$

C) $B > A > C$

D) $B > C > A$

1. Bilgisayarlar tüm verileri 0 ve 1 rakamlarıyla saklar. Örneğin Word programında “A” harfi yazdığınızda bilgisayar bunu “A” olarak değil 01000001 olarak algılar. “Biz de bu kodları kullanarak bazı hava olaylarının yalnızca iki harfinin bulunacağı bileklikler hazırlayalım” diyen öğretmen sınıfa farklı renklerde boncuk, misina, makas ve binary harf tablosunu getirmiştir.

Letter	Binary Code	Letter	Binary Code
A	01000001	a	01100001
B	01000010	b	01100010
C	01000011	c	01100011
D	01000100	d	01100100
E	01000101	e	01100101
F	01000110	f	01100110
G	01000111	g	01100111
H	01001000	h	01101000
I	01001001	i	01101001
J	01001010	j	01101010
K	01001011	k	01101011
L	01001100	l	01101100
M	01001101	m	01101101
N	01001110	n	01101110
O	01001111	o	01101111
P	01010000	p	01110000
Q	01010001	q	01110001
R	01010010	r	01110010
S	01010011	s	01110011
T	01010100	t	01110100
U	01010101	u	01110101
V	01010110	v	01110110
W	01010111	w	01110111
X	01011000	x	01111000
Y	01011001	y	01111001
Z	01011010	z	01111010

- Her öğrenci 0 ve 1’i temsil edecek renkleri belirler.
- ç, i, ü, ö, ğ harfleri yerine c, ı, u, o, g harfleri kullanılır.
- Kelime (hava olayı) içinden seçilen harfler baş, orta yada sondan olabilir.
- Harflerin kelime içerisindeki sırası değiştirilemez.
- Büyük ya da küçük harf karakterleri kullanılabilir.

Asım, ○●●●●○●●●○●●●○●●●○●●●○●●●○●●●○●●●○

Erhan, ○●●○●●○●●○●●○●●○●●○●●○●●○●●○●●○●●○

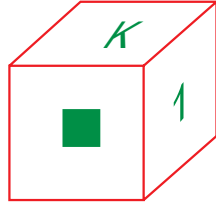
Ahmed, ○●○●○●○●○●○●○●○●○●○●○●○●○●○●○●○●○●○●○

Akif, ○●●○●●○●●○●●○●●○●●○●●○●●○●●○●●○●●○

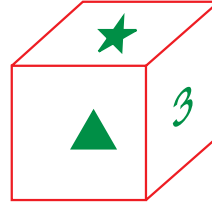
Öğrencilerin oluşturdukları bilekliklerin temsil ettiği hava olayları ile ilgili hangisi söylenemez?

- Asım, havanın soğumasıyla birlikte havadaki nemin yoğuşarak yeryüzünde su damlacıkları oluşturmasıdır.
- Erhan, havadaki su buharının yoğuşmasıyla yere yakın seviyede oluşan yeryüzü bulutlarıdır.
- Ahmet, çok soğuk havalarda havanın aniden soğumasıyla havadaki nemin katı hale dönüşmesidir.
- Akif, yağmurla oluşan su damlalarının donarak buz kütlelerine dönüşmesidir.

8.



1. görünüm

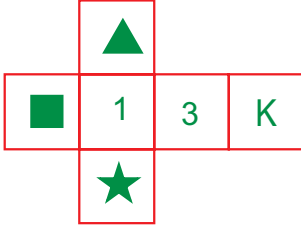


2. görünüm

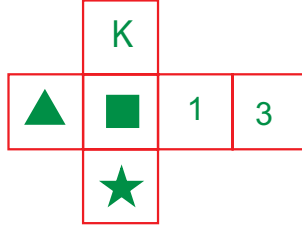
Yukarıda bir küpün iki farklı yönden görünümü verilmiştir.

Buna göre küpün açılımı aşağıdakilerden hangisi olabilir?

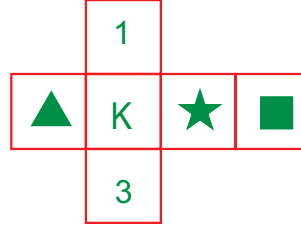
A)



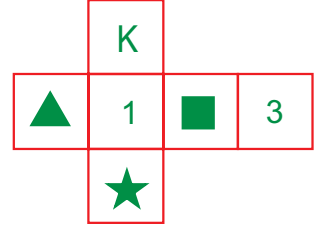
B)




C)



D)



9.



Yukarıda anaokulunda eğitim gören Emel, Arzu, Pembe, Nihal, Hazal ve Duygu'nun sınıflarına giderken çekilen fotoğrafı görülmektedir. Bu çocuklar sıra gözetilmeksizin rakamlarla gösterilmiştir.

Hangi rakamın hangi çocuğu temsil ettiği ile ilgili bilinenler şunlardır:

- III numaralı çocuk Arzu değildir.
- Hazal ile Nihal arasında üç çocuk vardır.
- Pembe, Emel'in hemen önünde; Arzu'nun ise hemen arkasındadır.
- Hazal'ın hemen önündeki çocuk Emel'dir.

Bu bilgilerden aşağıdaki yargıların hangisi çıkarılamaz?

- A) III numaralı çocuk Pembe'dir.
C) I numaralı çocuk Hazal'dır.

- B) Duygu, Hazal'ın hemen arkasındadır.
D) Nihal ile Pembe arasında Arzu vardır.

1.



Ben bir askerim Cihan savaşında bir ordunun başındayım. Türkiye’de diğer ordular ve onların kumandanları vardır. Ben yalnız kendi ordumla değil, öteki ordularla da megul oluyordum. Bir gün, Erzurum Cephesi’ndeki hareketlere ait bir mesele üzerinde durduğum sırada, yaverim bana dönüp; “ - Paşam neden size ait olmayan meselerle uğraşıyorsunuz?” dedi. Ona şu cevabı verdim
“ - Bütün orduların durumunu bilmezsem, kendi ordumu nasıl sevk ve idare edeceğimi bilemem.

Atatürk’ün bu sözlerinden yararlanarak;

- I. İleri görüşlülüğünün bir sonucu olarak yakın ve uzak çevresi ile ilgili ilgisini canlı tuttuğu
- II. Farklı konuları en geniş şekilde düşünmeyi, incelemeyi ve hesaplamayı kendine ilke edindiği
- III. Zamanına göre geri kalmış kurumların ortadan kaldırılması ve yerine ilerlemeyi sağlayacak yeni kurumlar getirmeyi benimsediği

gibi sonuçlardan hangisine ulaşılabilir?

- A) Yalnız I. B) I ve II. C) II ve III. D) I, II ve III.

2.

1914 yılında başlayan Birinci Dünya Savaşı’nın uzaması nedeniyle Osmanlı Devleti’nin insan kaynakları azalmış, ekonomik bakımdan zor durumda kalmıştı. Ayrıca müttefiklerinden Bulgaristan savaştan çekilmiş, diğer müttefikleri olan Almanya ve Avusturya - Macaristan ile de bağlantısı kesilmiştir. ABD’nin savaşa girmesiyle Almanların batı cephesi çökmüş, İtilaf Devletleri Suriye ve Irak’ı alarak Anadolu’ya dayanmışlardı. Savaşı İtilaf Devletleri’nin kazanacağı kesinleşmesi Osmanlı Devleti’ni ateşkes istemeye zorlamıştı. 30 Ekim 1918’de Osmanlı Devleti ile İtilaf Devletleri arasında Mondros Ateşkes Antlaşması imzalandı.

İtilaf Devletleri barış antlaşmasının imzalanmasını beklemeden Mondros Ateşkes Antlaşması’ndan hemen sonra aralarındaki gizli antlaşmalara uygun bir şekilde Osmanlı topraklarını işgal etmeye başladılar. Mustafa Kemal Paşa, ateşkesin ülkeyi işgale açık hale getiren hükümlerine itiraz etmiştir. Mustafa Kemal “Mondros Ateşkesi Osmanlı Devleti’nin müttefikleriyle beraber sürüklendiği acı mağlubiyetin yüz kızartacak bir sonucudur. Bu ateşkes maddeleri, Türk topraklarını yabancıların işgaline sunmuştur.” sözleriyle ateşkes olan tepkisini dile getirmiştir. İstanbul Hükümeti işgallere karşı sessiz kalmış, Türk halkının ise işgallere karşı ilk tepkisi, Müdafaa-i Hukuk Cemiyetlerini kurmak olmuştur.

Bu cemiyetlerin öncülüğünde yurdun değişik bölgelerinde mitingler düzenlenmiş ve işgalleri protesto etmek için İtilaf Devletleri’ne telgraflar çekilmiştir. Protestolardan sonuç alınamayınca işgalcilere karşı Kuvayımilliyeye adı verilen direniş hareketini başlatmışlardır.

Verilen bu bilgilere göre aşağıdakilerden hangisine ulaşamaz?

- A) Mustafa Kemal, ateşkesin maddelerine itiraz etmiştir.
- B) Türk halkı işgallere karşı koymuştur.
- C) Mondros Ateşkes Antlaşması Anadolu’nun işgaline zemin hazırlamıştır.
- D) Kuvayımilliyeye birliklerinin ihtiyaçları Osmanlı Devleti hazinesinden karşılanmıştır.

1.

İnsanoğlu çok aceleci. İstiyor ki her işi hemen başıversin. Ancak hayatta her şey öyle kolay olmuyor. Bazen çok basit görünen bir işte bile gayret etmeden başarıya ulaşılmıyor. Allah'ın bizi başarıya ulaştırmasını istiyorsak, önce kendi üzerimize düşenleri yerine getirmemiz gerekiyor.

Paragraftaki anlatımdan aşağıdaki yargılardan hangisine varılamaz?

- A) Mücadele etmeden başarıya ulaşmayı düşünmek saflık olur.
- B) Bazı insanlar şansları sayesinde her işte çalışmadan başarılı olurlar.
- C) Başarmak da Allah'ın bize vermiş olduğu bir nimettir.
- D) Başarı nimeti ancak emek ve gayretin sonucunda elde edilebilir.


2.

Rize'nin bir köyünde meydana gelen heyelanda bir ev toprak altında kaldı. Kurtarma ekiplerinin yaptığı çalışmalar sonucunda 8 yaşındaki bir çocuk topraktan sağ olarak kurtuldu. Küçük çocuk, kurtulması imkânsız gibi görünen olayda mucizevi bir şekilde tonlarca toprağın altından sadece küçük sıyrıklarla kurtuldu.

Paragrafta anlatılan olaydan aşağıdakilerden hangisi sonuç olarak çıkarılabilir?

- A) Bir insanın henüz ecel vakti gelmemişse Allah onu her halükârda yaşatır.
- B) Toprağın ölümcül bir etkisi yoktur.
- C) Bu tür olaylar herkesin başına gelebilir.
- D) Küçük çocuğun toprak altında ölmemesi tesadüfle açıklanabilir.


8.



My sister Jenny is an internet addict. She is always in front of her computer. She listens to music, visits social networking sites. She plays online games and watches movies, but she hates doing online research. She says she prefers touching books and using a real pencil.

Which of the pictures is NOT one of Jenny's Internet habits?

A)



B)



C)



D)



9.



Heaven Hotel. How can I help you?

Receptionist



Hello, this is Nadia Sims. Last week, I stayed at your hotel with my friend. I have to say that our room was really dirty. We called the reception 4 times, but no one came to clean our room!

Nadia



We're really sorry to hear that. I'll inform the management. I hope we can make it up to you.

Receptionist



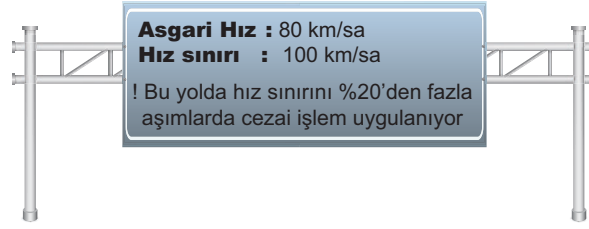
I don't think you can, but thank you.

Nadia


Nadia calls the receptionist to ----.

- A) change a product
- B) make a complaint
- C) book a room
- D) buy a product

1. Bilgi: Yol = Hız • Zaman



A noktasından yola çıkan bir aracın sürücüsü A noktasında yukarıdaki tabelaya görmüş ve kurallara uyararak devam etmiştir.



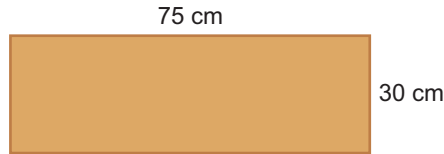
Araç;

- Başlangıçta hız sınırını aşmadan ve asgari hızın üstünde 3 saat,
- Daha sonra hız sınırını aşarak ve cezaya düşmeyerek 2 saat yol almıştır.

Araç hareketi boyunca hiç durmadan toplam x km yol aldığına göre, x için aşağıdakilerden hangisi doğrudur?

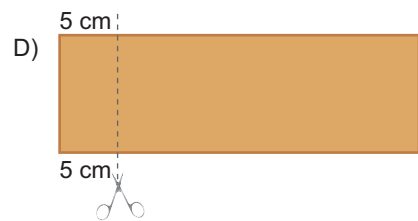
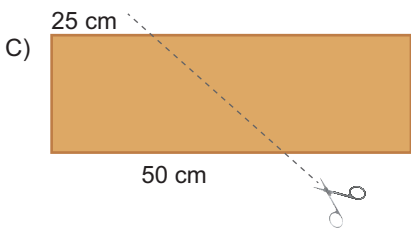
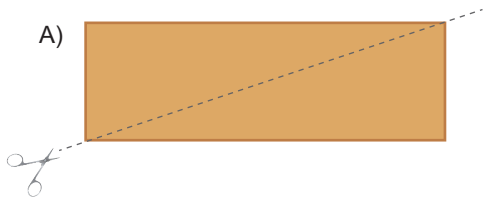
- A) $440 < x \leq 540$ B) $440 \leq x \leq 550$ C) $440 \leq x \leq 540$ D) $400 \leq x \leq 500$

2.

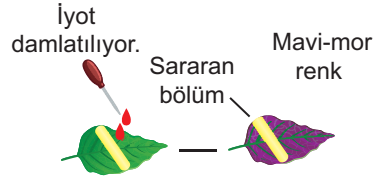
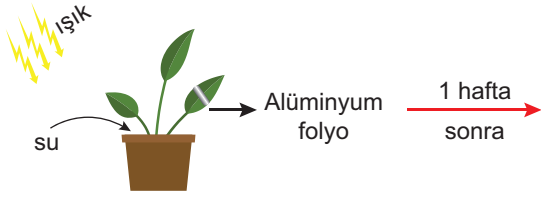


İrfan, yukarıda ölçüleri verilen dikdörtgen şeklindeki kartonu birbirine benzer iki parça olacak şekilde makas yardımı ile kesmek istiyor.

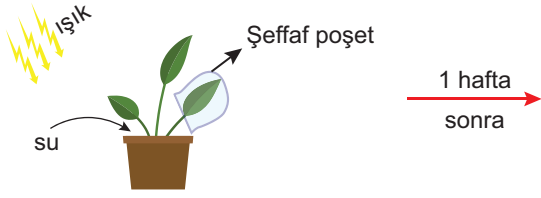
İrfan, kartonu aşağıdakilerden hangisi gibi keserse birbirine benzer parçalar oluşmaz?



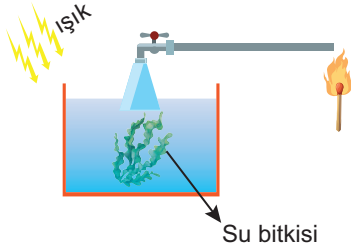
2. Ahmet Öğretmen öğrencileriyle “Canlılarda Enerji Dönüşümleri” ile ilgili aşağıdaki deneyleri yapmıştır.



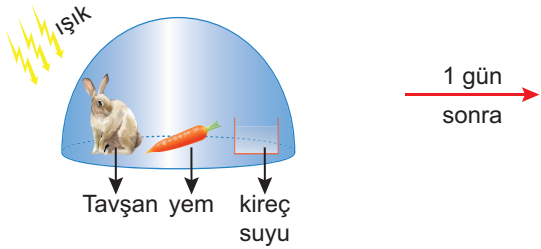
Gözlem: Alüminyum folyonun altında kalan kısımda yaprak sararır ve iyot çözeltisiyle renk değiştirmez.



Gözlem: Poşetteki yaprak sararırken diğer yapraklar yeşildir.



Gözlem: Birkaç saat sonra musluk açılıp yanan kibrit yaklaştırıldığında alevin parladığı görülür.

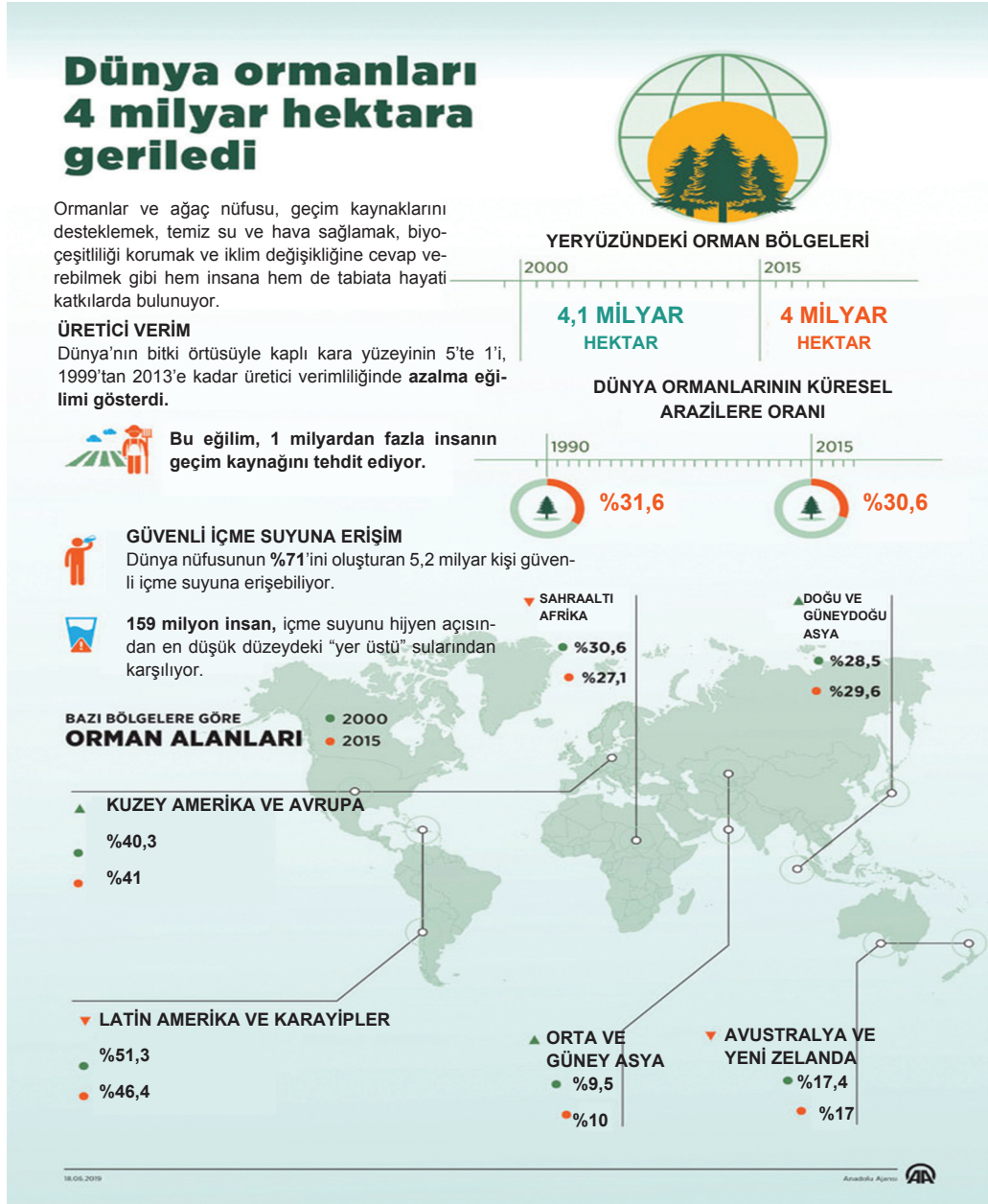


Gözlem: Kireç suyunun bulandığı gözlenir.

Buna göre aşağıdakilerden hangisi deneyler sonrasında yapılacak çıkarımlardan biridir?

- A) Solunumun gerçekleşebilmesi için ışık gereklidir.
- B) Fotosentez sonucu açığa çıkan karbondioksit kireç suyunu bulandırır.
- C) Solunum sonucu açığa çıkan oksijen kibrit alevini parlatır.
- D) Fotosentezin gerçekleşebilmesi için karbondioksit gereklidir.

11.



Ormanlar, nesli tükenmekte olan hayvanların üretimi, korunması ve barınmasında koruma alanı oluşturur. Ayrıca doğal afetleri önler ve ülke turizmine de katkıda bulunur.

Yukarıdaki görsel, dünya ormanlarının dağılımını göstermektedir.

Bu görselle ilgili aşağıdakilerden hangisi söylenemez?

- 2000-2015 yıllarında orman alanlarındaki en büyük artış, Latin Amerika ve Karayipler'e aittir.
- Ormanların insanların geçimlerini sağlamak, biyolojik çeşitliliği korumak gibi önemli faydaları vardır.
- Dünya ormanlarının küresel araziye oranı, 25 yıl içinde gözle görülür bir artış sergilemiştir.
- 1999-2013 yıllarında ekilip biçilen topraklarda verim azalmıştır.

7.

Ülkemizde uzun süren savaşlar nedeniyle sağlık hizmetleri ihmal edilmiştir.

Birinci Dünya Savaşı ve Kurtuluş Savaşı yıllarında hastalıklar sağlıksız yaşam ortamı ve yoksulluk ülkenin her tarafına yayılmıştı.

Hastalıkların ciddi boyutlara ulaşmasını önlemek için TBMM'de çıkarılan bir yasa ile "Sağlık Bakanlığı" kuruldu. Cumhuriyet'in ilanından sonra bir sağlık politikası oluşturuldu. Sağlık kuruluşları yaygınlaştırıldı. Sağlık personelinin sayısı artırıldı. Zorunlu görev uygulaması ile ülkenin dört bir yanına doktor gönderildi. Salgın hastalıklara karşı mücadele başlatıldı. Böylece sıtma, trahom, frengi, tifo, veba, kızamık, kolera, verem ve çiçek gibi hastalıkların önüne geçildi. Ülke genelinde aşı kampanyaları başlatıldı. Hastalıkları erken teşhis ve tedavi etmek için önleyici hekimlik uygulaması yaygınlaştırıldı. 1930 yılında TBMM tarafından "Umumi Hıfzıssahha Kanunu" çıkarıldı. Ankara'da Hıfzıssahha Enstitüsü kuruldu.

Bu kurumun yaptığı çalışmalar sonucunda serum üretimine geçildi. Ülkenin bütün serum ihtiyacı bu kurum tarafından karşılandı. 1937'de bu kurum kuduz aşısını üretti.

Ayrıca veremin tedavisi için sanatoryum hastaneleri kuruldu ve verem savaşı dernekleri oluşturularak halkın hizmetine sunuldu.

Buna göre Cumhuriyet Dönemi'nde sağlık alanında yapılan çalışmalarla ilgili aşağıdakilerden hangisi söylenemez?

- A) Halkın sağlık sorunlarını çözmek, halka daha iyi şartlar sunmak için çalışmalar yapılmıştır.
- B) Salgın hastalıkları önleyici tedbirler alınmıştır.
- C) Savaşların uzun sürmesi sağlık sorunlarını olumsuz etkilemiştir.
- D) Ülkemizde üretilen çiçek aşısı yurt dışına ihraç edilmiştir.

8.

Cumhuriyet tarihinin ilk muhalefet partisi olan Terakkiperver Cumhuriyet Fırkası parti tüzüğünde, dinsel düşüncelere ve inançlara saygılı olduğunu belirtti. Bu ifade dini duyguları sömürerek halkı Cumhuriyete, ilerlemeye ve yenileşmeye karşı kışkırtmak isteyenlere fırsat oluşturmuştu. Kısa sürede Doğu'da da bir ayaklanmanın çıkması bu partinin kapatılmasına neden olmuştur.

Bu bilgiye dayanarak;

- I. Çok partili hayata geçiş gecikmiştir.
- II. Cumhuriyet ve yenilik hareketleri korunmuştur.
- III. Çok partili hayat için halk yeterli olgunluğa erişmemiştir.

ifadelerinden hangileri söylenebilir?

- A) I, II ve III
- B) I ve II
- C) I ve III
- D) Yalnız I

1.

Yüce Allah bitki, hayvan ve insanların yapı ve işlevlerini biyolojik yasalara bağlı kılmıştır. Kim bana biyolojik yasalara bir örnek söyleyebilir?



Öğretmenin sorusuna hangi öğrencinin verdiği cevap uygun bir örnek olmamıştır?

A)

Bitkiler yeşil yapraklarında yaptıkları fotosentez ile besinlerini üretirler.



İrem

B)

Helyum gazı atmosferde bulunan gazlardan hafiftir. Bu özelliğinden yararlanılarak uçan balonlar helyum gazı ile doldurulur.



Emirhan

C)

İnsan hücrelerinde bulunan DNA adı verilen kalıtım maddesi her insanda farklıdır. Bu sayede dünyada yaşayan 7,5 milyar insanın hiçbirisi diğerisini aynısı değildir.



Hacer

D)

Ağaçlar büyürken gövdelerinin içinde her yıl farklı kalınlıkta bir halka oluşur. Bu halkalar sayılarak ağacı yaşı hesaplanabilir.




Kemal

2. Hastalık herkesin başına gelebilecek bir durumdur. Böyle bir durumla karşılaşıldığında, “ne yapalım, kaderimizde başımıza bunun geleceği varmış” diyerek hiçbir şey yapmadan oturmak ve hastalığın şifasını aramamak doğru bir davranış değildir. Onun yerine Allah'ın her hastalığın şifasını verdiğini unutmamalı ve tedavi olup iyileşmek için çaba sarf etmeliyiz.

Paragrafta yer alan ifadelere göre aşağıdakilerden hangisi yanlıştır?

- A) Hastalıklar bizi umutsuzluğa sevk etmemeli.
- B) Allah insana hastalık ve belalara karşı sabretme gücü vermiştir.
- C) Hiçbir zaman Allah'tan ümit kesmemeliyiz.
- D) Hastalandığımızda, bu hastalık bula bula benimi buldu demeliyiz.

1. Laura makes two lists and writes the names of her friends she likes and dislikes. Here are her lists:



According to Laura's list, which of the following CANNOT be correct?

- A) Steve is supportive and helpful.
B) Mandy gets angry too often.
C) Boris thinks about only himself.
D) Gill never tells the truth.

Answer questions 2-3 according to the information below.

Mark asked his friends some questions about their free time activities and he took notes of his friends' answers:

	Playing video games	Reading	Seeing a movie
NİL	fantastic	boring	unbearable
SELİN	ridiculous	unbearable	enjoyable
CEM	trendy	terrific	interesting

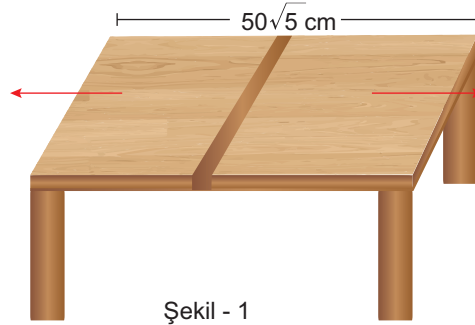
2. Mark has three cinema tickets for tomorrow. Who will join Mark?

- A) Nil and Selin
B) Selin and Cem
C) Only Selin
D) Only Nil

3. Which of the following sentences can be CORRECT according to the information?


- A) Nil is in the bookstore to buy herself a science-fiction book.
B) Selin is going to her friend's house to play video games.
C) Selin will attend a reading club next week.
D) Cem plays video games with his brother in the evenings.

6.



Şekil - 1

Yukarıda verilen genişleyebilen yemek masası Şekil - 1'de gösterildiği gibi kısa kenarlarından ok yönünde çekildiğinde ortadan açılan bölmeden çıkan mekanizma sayesinde masanın boyu kapalı haldeki boyunun $\frac{2}{5}$ 'si kadar uzamaktadır.



Şekil - 2

Masanın kapalı haldeyken uzun kenar uzunluğu $50\sqrt{5}$ cm ve kısa kenar uzunluğu $24\sqrt{3}$ cm olduğuna göre masanın ortasındaki mekanizma sayesinde çıkan masaya ait parçanın alanı kaç santimetrekaredir?


A) $192\sqrt{15}$

B) $480\sqrt{15}$

C) $600\sqrt{15}$

D) $720\sqrt{15}$

7.



→ Katlanmış tişört

Özlem Hanım bir tişört çekmecesine katladığı tişörtleri üst üste 11 tane koyarak dizdiğinde çekmeceyi rahat kapatmakta, üst üste 12 tane koyarak dizdiğinde çekmece kapanmamaktadır.

Özlem Hanım'ın katladığı tişörtlerin kalınlığı 1,5 cm olduğuna göre çekmecenin yüksekliği aşağıdaki sayı doğrularından hangisi ile gösterilebilir?

A) $\left[\begin{array}{c} \bullet \\ 16,5 \end{array} \right] \left[\begin{array}{c} \bullet \\ 18 \end{array} \right]$

B) $\left[\begin{array}{c} \bullet \\ 16,5 \end{array} \right] \left[\begin{array}{c} \circ \\ 18 \end{array} \right]$

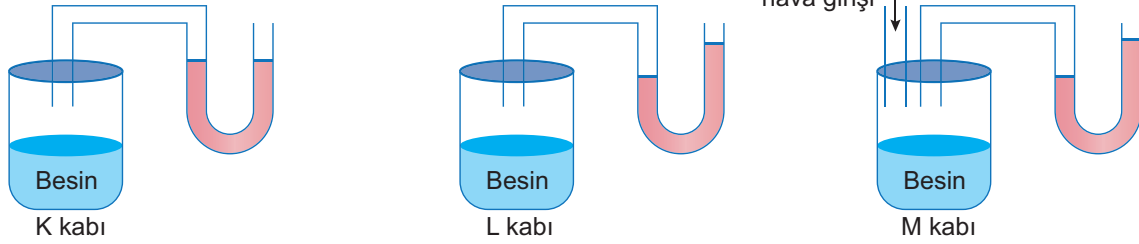
C) $\left[\begin{array}{c} \circ \\ 16,5 \end{array} \right] \left[\begin{array}{c} \bullet \\ 18 \end{array} \right]$

D) $\left[\begin{array}{c} \circ \\ 16,5 \end{array} \right] \left[\begin{array}{c} \bullet \\ 18 \end{array} \right]$

4. **Oksijenli solunum:** Hücre içerisinde bulunan besin maddelerinin, oksijenli ortamda karbondioksit ve suya kadar parçalanmasına oksijenli solunum denir.

Oksijensiz solunum: Besinlerin oksijen kullanmadan enzimler yardımıyla parçalanıp enerji elde edilmesine oksijensiz solunum denir.


İçerisinde eşit oranda besin bulunan ve U borusu eklenmiş üç ayrı kaba üç farklı canlı çeşidi konuluyor.



Başlangıçta U borusundaki su seviyeleri eşitken canlılar konulduktan sonra denge konumları yukarıdaki gibi olmuştur.

Buna göre yapılan deneyle ilgili açıklamalardan hangisi yanlıştır?

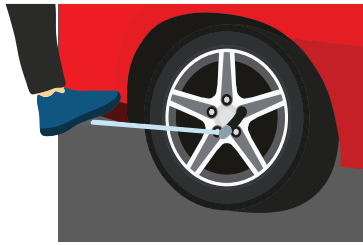
- A) K kabında meydana gelen solunum şekli insanların iskelet kaslarında da görülür.
 B) Her üç kaptaki da enerji elde edilir.
 C) L kabında bulunan canlı hamurun mayalanmasında görev alır.
 D) M kabına konulan canlı geceleri oksijenli solunum yapamaz.
5. Emreler yolda giderken araçlarının lastiğinin patladığını fark ediyor ve lastiği değiştirmek için yol kenarında duruyorlar. Bunun için lastikleri araca bağlayan bijonların sökülmesi gerekmektedir.



Bijon anahtarı



Bijon



Şekil - I



Şekil - II

Emreler Şekil - I'de bijon anahtarını kullanarak lastikteki bijonları açamıyorlar.

Şekil - II'de bijon anahtarına taktıkları ek boru yardımıyla bijonları sökerek lastiği değiştiriyorlar.

Emrelerin yapmış olduğu bu işlemlerle ilgili aşağıdaki çıkarımlardan hangisine ulaşılabilir?

- A) Şekil - I'de kuvvet uygulanan nokta lastiğe yaklaştırılırsa bijonlar daha kolay sökülebilir.
 B) Şekil - II'de kuvvetten kazanç azalmıştır.
 C) Şekil - I'de bijonun kolunun kısa olması kuvvet kazancını artırır.
 D) Şekil - II'de bijonlara eklenen boru sayesinde yol kaybı oranında kuvvet kazancı olur.

10.

Osmanlı Donanması başında olan, Yunanların Kara Ali dediği Kaptan-ı Derya Ali Paşa komutasındaki ordu Sakız İsyanı'nı bastırır. Fakat Yunanların denizcisi Kanaris bir şekilde limana sızarak Osmanlı amiral gemisini ateşe verir ve bu esnada şehit düşen Ali Paşa'nın geride kalan ailesine Osmanlıcada yanık anlamına gelen Mahrukizade denmeye başlanmıştır. Aynı aileye mensup olanlara Mahruki soyadı verilmiştir. Ali Nasuh Mahruki, Kaptan-ı Derya Ali Paşa'nın 6. kuşak torunudur. 1996 yılında yedi arkadaşıyla birlikte Arama Kurtarma Derneğini (AKUT) kurmuştur. 17 Ağustos 1999 depreminde enkaz çalışmalarına katılıp Türkiye'nin ve dünyanın her köşesinden gelen gönüllüleri örgütleyerek ve yardımları tasnif edip, ihtiyaç sahiplerini belirleyip onların dağıtımını yaparak isimlerini duyurmuşlardır.

Bu parçada Nasuh Mahruki ile ilgili aşağıdakilerden hangisine değinilmemiştir?

- A) Bir arama kurtarma timi kurarak 17 Ağustos depremiyle tüm dünyaya adını duyurduğuna
- B) İsmi aldığı akrabasının, isyanı bastırdıktan sonra bir kundaklama sonucu vefat ettiğine
- C) Kurduğu organizasyonla sadece depremedeleri kurtarmakla kalmayıp yapılan yardımları da onlara ulaştırdığına
- D) Elde edilen başarıyı arama kurtarma alanında aldığı eğitime borçlu olduğuna

11.

(I) Grafik tasarımcı Banu Ertuğrul ve dijital iletişim uzmanı Onur Ertuğrul, 1 Ocak 2015'te bir proje başlattılar ve "Lûgat365" adlı sosyal medya hesabı üzerinden her gün takipçilerine bir kelimeyi, bu kelimenin anlamını, etimolojik kökenini kullandığı bir edebî alıntıyla sundular. (II) Sloganları etkileyiciydi: "Bazı kelimeler çok güzel." (III) Proje o kadar büyük ilgi gördü ki kısa sürede bir sosyal medya fenomeni hâline geldiler. (IV) Sosyal medya fenomeni olabilmek için olmayacak şaklabanlıkların yapıldığı bir dönemde yaşıyoruz çünkü takip edilmek şu sıralar insanlar için çok önemli. (V) "Birbirimize ve hayattaki güzel şeylere, onların hayatı değiştirme gücüne inanan iki kişiyiz." diyen Ertuğrul çifti önce Galata'da Güzel Kelimeler Dükkanı'nı açtı, sonra Can Yayınları etiketli bir kitap çıkardı.

Bu parçada numaralanmış cümlelerden hangisi anlatımın akışını bozmaktadır?

- A) V.
- B) IV.
- C) III.
- D) II.

3.

Erzurum ve Sivas Kongreleri'nde Mebusan Meclisi'nin açılmasına yönelik kararlar alındı. Amasya Görüşmeleri'nde İstanbul Hükümeti'nin bu durumu kabul etmesiyle ülke genelinde seçimler yapılarak milletvekilleri belirlendi. Müdafaa-i Hukuk Cemiyeti üyelerinin çoğu seçimleri kazandı. Mustafa Kemal Paşa da Erzurum milletvekili seçildi. Meclisin toplanacağı yer konusunda Temsil Heyeti ile İstanbul Hükümeti arasında fikir birliği sağlanamadı. Mustafa Kemal, meclisin İstanbul'da toplanmasını istemiyordu. Bunun sebebi şehir İtilaf Devletleri'nin kontrolü altındaydı. Böyle bir ortamda Millet iradesini yansıtacak kararların alınması mümkün değildi. Mebusan Meclisi, Padişah ve İstanbul Hükümeti'nin ısrarıyla 12 Ocak 1920'de İstanbul'da toplandı. 28 Ocak 1920'de Misak-ı Milli kararları ilan edildi. Misak-ı Milli kararlarının alınması İtilaf Devletleri'nin beklentilerine aykırıydı. Bu durumdan rahatsızlık duyan İtilaf Devletleri, 16 Mart 1920'de İstanbul'u resmen işgal ettiler. Mebusan Meclisi'nin basarak önde gelen milletvekillerini Malta'ya sürgüne gönderdiler. İstanbul'da sıkı yönetim ilan edildi. İstanbul'un işgal edilmesi ve Meclisin dağıtılması üzerine Mustafa Kemal Paşa 19 Mart 1920'de bir genelge yayınlayarak Ankara'da yeni bir meclisin açılacağını bildirdi. TBMM, Anadolu'nun çeşitli yerlerinden seçilen milletvekilleri ile İstanbul'dan kaçan milletvekillerinin Ankara'da toplanmasından sonra 23 Nisan 1920'de açıldı.

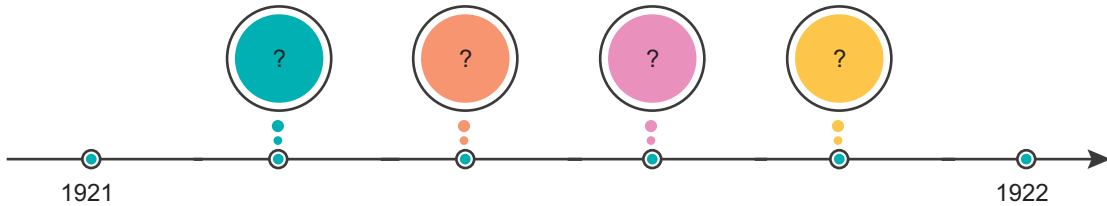
Buna göre;

- I. İstanbul'un işgali Mustafa Kemal'i haklı çıkarmıştır.
- II. Mebusan Meclisi'nin dağıtılmasıyla millet iradesi yok edilmeye çalışılmıştır.
- III. TBMM'nin açılması ile tam bağımsız Türk Devleti kurulmuştur.

yargılarından hangilerine ulaşılabilir?

- A) Yalnız I B) Yalnız II C) I ve II D) I, II ve III

4. I. TBMM Hükümeti Londra Konferansı'na katılmıştır.
- II. Düzenli ordunun ilk askeri zaferi olmuştur.
- III. Fransa'nın TBMM ile Ankara Antlaşması imzalayarak Anadolu'dan çekilmeye başlamıştır.
- IV. Türk ordusu ağır kayıplar vermemek için Sakarya Nehrinin doğusuna çekilmiştir.



Milli Mücadele döneminde Batı Cephesinde gelişmeler sonrasında yaşanan olaylar verilen tarih şeridinde kronolojik olarak gösterilecektir. Buna göre doğru sıralama aşağıdakilerden hangisi olmalıdır?

- A) II – I – IV – III B) III – I – IV – II C) IV – III – I – IV D) I – II – III – IV

4.

Yaşamak her insanın doğuştan gelen hakkıdır. Kimse kimseyi haksız yere öldüremez. İnsan hayatına kast eden kimse hem dünya hayatında hem de ahiret hayatında en ağır cezalarla karşılaşacaktır.

Aşağıdaki ayetlerden hangisi insanları bu konuda uyardığıdır?

- A) Her nefis ölümü tadacaktır. Sizi bir imtihan olarak kötülük ve iyilikle deneyeceğiz. Hepiniz de sonunda bize döndürüleceksiniz. (Enbiya suresi, 35. ayet)
- B) De ki: Benim namazım, ibadetim, hayatım ve ölümüm hep âlemlerin Rabbi Allah içindir. (Enam suresi, 162. ayet)
- C) Böylece Allah, dünya ve ahiret sevabının güzelliğini onlara verdi. Allah iyilikte bulunanları sever. (Ali İmran suresi, 148. ayet)
- D) Allah'ın haram kıldığı cana haksız yere kıymayın. (İsra suresi, 33. ayet)

5.



Ali

▶ Oruç tutunca kendimi daha dinç ve sağlıklı hissediyorum



Hatice

▶ Sadaka verdiğimde ihtiyaç sahibi insanlara destek olduğum için kendimi mutlu hissediyorum.



Mehmet

▶ Namaz kılınca Allah'a daha yakın olduğumu hissediyorum ve bundan huzur duyuyorum.



Derya

▶ Umre'ye gittiğimde Kâbe'yi görmek ve orada ibadet etmek beni hem heyecandırdı hem de sevindirdi.

Öğrencilerden hangisinin anlattığı olay, yaptığı ibadetle manevi ihtiyaçlarının karşılanmasına verdiği bir örnek değildir?

A) Ali

B) Hatice


C) Mehmet

D) Mediha

3.

BANANA BREAD

- 1 Melt the butter in a pan.
- 2 Mash the bananas with a fork.
- 3 Pour the melted butter into the mashed bananas.
- 4 Mix in the baking soda and salt. Stir in the sugar, beaten egg, and vanilla extract. Mix in the flour.
- 5 Pour the mixture into your loaf pan.
- 6 Bake for 50 minutes at 175°C.



According to the recipe, which of the following pictures shows step 2?

A)



B)



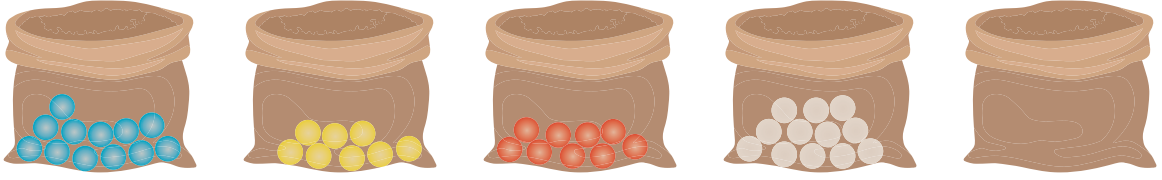
C)



D)



19.



İçlerinde mavi, sarı, kırmızı ve beyaz renkte toplar bulunan 4 torba vardır. Bu torbaların her birinden rastgele sayıda alınıp boş bir torbaya atılıyor ve torbadan rastgele bir top seçiliyor. Bu deneyle ilgili aşağıdaki bilgiler veriliyor.

- Mavi top gelme olasılığı %50'den fazladır.
- Kırmızı top gelme olasılığı %30'dan fazladır.
- Beyaz top gelme olasılığı, sarı top gelme olasılığından azdır.

Buna göre, boş torbaya atılan top sayısı en az kaç olabilir?

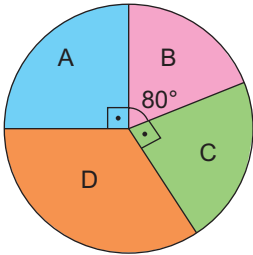
A) 17

B) 18

C) 19

D) 20

20.



Yandaki daire grafiğinde bir ilkokuldaki 2020-2021 eğitim yılında toplam mevcudu 180 olan 1. sınıfların şubelere göre öğrenci dağılımı verilmiştir.

2020-2021 yılında Covid-19 pandemisi nedeniyle 1. sınıflar yarı zamanlı eğitim gördükleri için yıl sonunda bazı öğrenci velileri, çocuklarının 1. sınıfa devam etmesi için talepte bulunmuşlardır. Buna göre 1. sınıfa devam edecek ve 2. sınıfa geçecek öğrencilerin sayısı aşağıdaki tabloda gösterilmiştir.

	A	B	C	D
1. sınıfa devam	10			20
2. sınıfa geçen		25	30	

2021-2022 eğitim yılında ilk defa 1. sınıfa başlayacak 120 öğrenci sınıflara eşit sayıda dağıtılıyor ve sınıf tekrarı yapacak öğrenciler aynı şubelerinden devam ettiriliyor.

Buna göre 2021-2022 eğitim yılında 1. sınıf öğrencileri için yapılan yeni daire grafiğinde hangi iki şubenin merkez açısı 2020-2021 eğitim yılının daire grafiğindeki merkez açısı ile aynı olur?

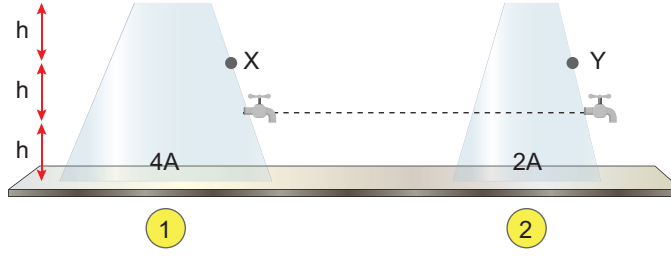
A) A - B

B) B - C

C) C - D

D) A - C

8. Kesit alanları farklı, derinlikleri eşit olan kapların üzerinde X ve Y noktaları işaretleniyor.



İlk durumda içi boş olan kaplar su ile doldurularak yapılacak işlemlerle ilgili olarak;

- Eşit seviyede su doldurulmuş kapların üzerindeki özdeş musluklar eşit miktarda açıldığında 1. kaptan fışkıran su daha uzak mesafeye düşer.
- İki kabında tamamı su ile doldurulup, ağızları kapatılıp ters çevrilirse X ve Y noktasında oluşan sıvı basınçları azalır.
- Kaplara 200 mL sıvı konulursa 2. kabın tabanında oluşacak sıvı basıncı daha fazla olur.

İfadelerden hangisi ya da hangileri doğrudur?

- A) Yalnız I B) Yalnız III C) I ve III D) I, II ve III

9. Bir maddenin asit yada baz olduğuna karar vermek için ayıraç (belirteç) kullanılır.

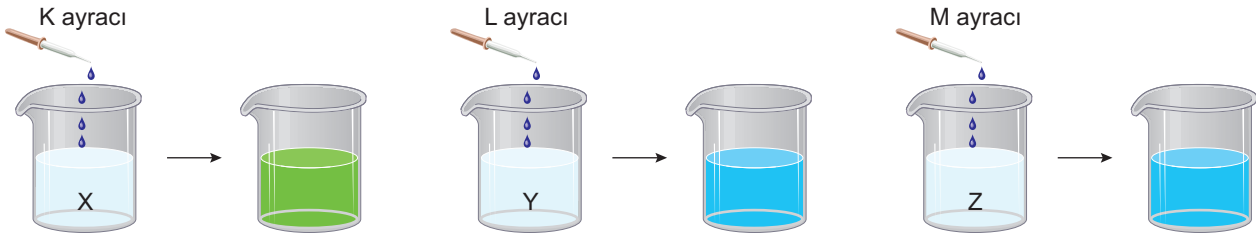
Tablolarda K, L ve M ayraçlarının renk değiştirdikleri pH aralıkları verilmiştir.

K ayraç	
pH aralığı	Renk değişimi
1 - 3	Turuncu
8 - 11	Yeşil

L ayraç	
pH aralığı	Renk değişimi
9 - 12	Mavi
2 - 4	Sarı

M ayraç	
pH aralığı	Renk değişimi
0 - 5	Mavi
8 - 13	Kırmızı


İçinde asit ya da baz çözeltisi olduğu bilinen ancak hangi cins çözelti olduğu bilinmeyen X, Y ve Z çözeltilerine K, L ve M ayraçları damlatılarak oluşan renk değişiklikleri aşağıdaki şekillerde gösteriliyor.



Bu bilgilere göre X, Y ve Z kaplarında bulunan çözeltiler ile ilgili aşağıdaki eşleştirmelerden hangisi doğrudur?

	X	Y	Z
A)	Baz	Baz	Asit
B)	Baz	Asit	Baz
C)	Asit	Baz	Asit
D)	Baz	Asit	Asit

8.

Porsiyon miktarı 100 gr	
Kalori(kcal) 52	
Toplam yağ 0,2 g	
Kolesterol 0mg	
Sodyum 1 mg	
Karbonhidrat 14 gr	
Protein 0,3 g	
A vitamini 54IU C vitamini 4,6 mg	
Kalsiyum 6 mg Demir 0,1 mg	
D vitamini 0IU B6 vitamini 0mg	

Yukarıdaki tabloda elmanın besin değeri verilmiştir.

Görsel metinden hareketle elma ile ilgili aşağıdakilerden hangisine ulaşamaz?

- A) Bir elmada yaklaşık olarak 52 kalori bulunmaktadır.
- B) Yağ içermemesi ve protein açısından zengin olmaması onu diyetlerde tercih nedeni yapmaktadır.
- C) Elma, kalorisinin büyük kısmını karbonhidrattan almaktadır.
- D) Elma, mineral ve vitamin yönünden oldukça zengindir.

9.

- I. Dört saatte şarj edilebilen aracın 300 ile 500 metre yükseklikte uçuşması planlanmıştır.
- II. Çin'de bir firmanın ürettiği yolcu taşıyan ilk insansız hava aracı bir teknoloji fuarında tanıtıldı.
- III. Bütün bu özelliklerin yanında en dikkat çeken özelliği ise aracın herhangi bir pilota ihtiyaç duymadan hareket edebiliyor olması.
- IV. Bu yükseklikte saatte 100 kilometre hızla uçabilen araç bir seferde en fazla 23 dakika havada kalabiliyor ve 100 kilogram yük taşıyabiliyor.
- V. Tek bir yolcu taşıyabilen ve kısa mesafeli yolculuklar için kullanılacak olan bu araç elektrikle şarj ediliyor.

Numaralanmış cümlelerle anlamlı bir paragraf oluşturmak için doğru sıralama aşağıdakilerden hangisi olmalıdır?

- A) II – I – V – III – IV
- B) II – III – IV – V – I
- C) II – IV – III – V – I
- D) II – V – I – IV – III

9.

Osmanlı Devleti'nde halkın büyük bir kısmı Türklerden ve Müslümanlardan oluşurken gayrimüslim halkın sayısı da önemli bir yer tutmaktaydı. Türklerden ve Müslümanlardan oluşan halk zorunlu askerlik görevini yapar daha çok tarım ve hayvancılık ile uğraşır askerlik mesleği geçimlerini sağlardı. Gayrimüslimler ise Islahat Fermanının yayınlanmasına kadar ödedikleri cizye vergisi karşılığında askerlikten muaf tutuluyor ve önemli bir kısmı geçimini ticaret yaparak sağlıyordu. Bu yüzden Osmanlı Devleti'nde ticaret hayatı ise daha çok gayrimüslim halkın elindeydi.

Bu durum cumhuriyetin ilanından sonra yeni Türk devletinde;

- I. Özel sektörde sermaye birikiminin az olması
- II. Özel sektör ile kalkınma girişiminin başarısız olmasına
- III. Sanayi ve ticaret alanında yetişmiş, nitelikli iş gücünün yetersiz olması

gibi sonuçlardan hangisine neden olmuştur?

- A) Yalnız I. B) I ve II. C) II ve III. D) I, II ve III.

10.



Versay Antlaşması, Birinci Dünya Savaşı'nı hazırlayan nedenlerin hiçbirini ortadan kaldırmamış, aksine bu savaşın başlıca nedenleri arasındaki uçurumu daha da arttırmıştır. Galip devletler yenilen devletlere barış koşullarını zorla kabul ettirirken bu ülkelerin etnik, jeopolitik ve ekonomik özellikleri dikkate alınmamıştır, yalnız düşmanlık duygularının üzerinde durmuşlardır. Böylelikle de bugün içinde yaşadığımız barış ateşkesten öteye gidememiştir.

Atatürk'ün Birinci Dünya Savaşı sonrasındaki durumu değerlendiren bu sözlerinde aşağıdaki durumlardan hangisini vurgulamıştır?

- A) Toplumların kültürel farklılıklarının olduğunu
- B) Devletler arasında kalıcı barışın sağlanamadığını
- C) Ülkelerin ekonomik koşullarının savaşa yol açtığını
- D) Birinci Dünya Savaşında yapılan antlaşmaların geçersiz olduğu

1.

İnsan yaratılış itibarıyla sosyal bir varlıktır. Dünyaya geldiği andan itibaren başta annesi olmak üzere ailesinin yardımına muhtaçtır. Büyüdükçe diğer insanlarla etkileşimi ve iletişimi artar. Eğitimi için öğretmene, hastalandığında tedavisi için doktora ihtiyaç duyar. Elbette kendisi de başka insanlara faydalı olacak işler yapar. Bir fabrikatör işçiye, bir tüccar müşteriye ihtiyaç duyar. Doktoru, hastası; öğretmeni, öğrencisi; işvereni, işçisi; kadını, erkeği; zengini ve fakiriyle toplumda insanlar birbirlerini tamamlamaktadır.

Bu paragraftan çıkarılacak esas düşünce hangisidir?

- A) İnsanlar eğitimlerini kendi kendine yapma yeteneğine sahip değildirler.
- B) Bir toplumda insanlar birbirleriyle dayanışma içinde yaşamlarını sürdürürler.
- C) Geniş bir çevreye sahip olmak, insanı toplumda daha itibarlı hale getirir.
- D) Doktorlar hastalarını tedavi edebilir, ancak kendilerini tedavi etmeleri mümkün değildir.

2.

Başarı için doğruluktan ve adaletten ayrılmayanları Allah mükâfatlandıracaktır. Bu konu Kur'an-ı Kerim'de, "Allah, kendisine karşı gelmekten sakınanları başarıları sebebiyle kurtarır. Onlara kötülük dokunmaz. Onlar üzülmezler de." (Zümer suresi, 61. ayet)." buyrulurken başarıda asıl sırrın Allah'a duyulan saygıda ve bağlılıkta olduğu vurgulanmaktadır.

Kur'an'a göre doğruluk ve adaletin başarıyla olan ilişkisi ile ilgili olarak aşağıdaki ifadelerden hangisi söylenmez?

- A) Sadece başarılı olmak yetmez, başarıyı elde etmek için de doğru olan yolları kullanmak gerek.
- B) Başarıyı veren Allah'tır, başarıyı elde etmek için Allah'a saygılı olmaya da dikkat etmek gerekir.
- C) Önemli olan kazanmaktır, sonucun hangi yollarla elde edildiği önemli değildir.
- D) Allah'ın rızasına uygun davrananlar, çabalarının karşılığını hem bu dünyada hem de öbür dünyada alacaklardır.

3.



Martha is 17 years old. She always wakes up at 6:30 and listens to music in her bed. At 7:00 o'clock she gets dressed for school. She arrives home from school at 4 o'clock and she does her homework. She has dinner at 7 o'clock. Then she watches TV with her family and she plays computer games in her room. Before she goes to bed, she washes her face and brushes her teeth. She reads a book and then at 9 o'clock she sleeps.

According to the information about Martha, which of the following is TRUE?

- A) She listens to music on her way to school. B) She brushes her teeth after she wakes up.
C) She does her homework at school. D) She spends time with her family after dinner.

Answer questions 4-5 according to the text below.



Rome is the ancient capital of Italy. It is in the center of Italy, on River Tiber. Rome is a great holiday destination because it has an interesting culture, wonderful monuments and friendly people. Vatican and the beautiful museums and art galleries that surround it are fascinating places to visit. Tourists can also visit the Colosseum which is an amphitheatre in the centre of the city and the Spanish Steps. If you go to Rome, don't forget to take your camera with you.

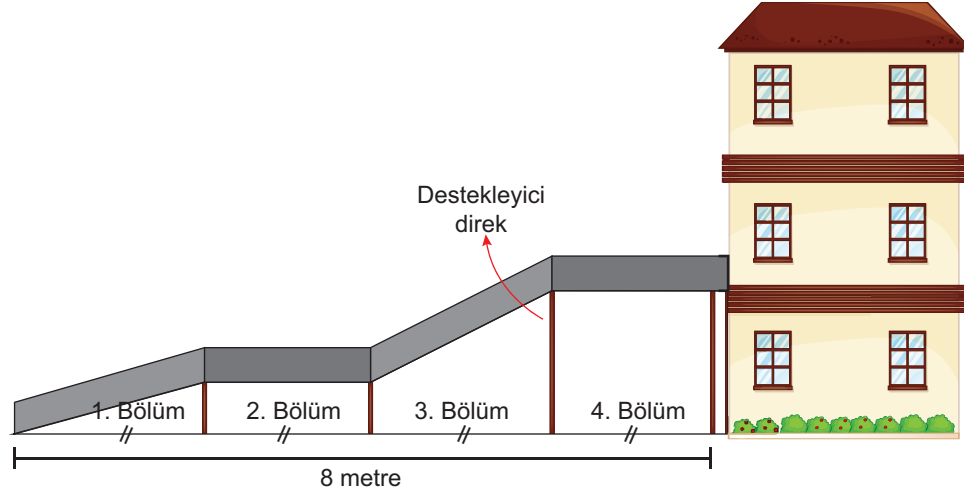
4. The text describes Rome's ----.

- A) climate B) population C) tourist attractions D) transportation system

5. Which of the following can be the title of the text?

- A) Beautiful Museums in Rome
B) Places to Visit in Rome
C) Rome's Interesting Culture
D) The location of Rome

6.



Esra şekildeki eşit aralıklı 4 bölüm ve 4 destekleyici direkten oluşan engelli rampası ile binanın ikinci katına giriş yapmak istiyor.

Esra bu rampalarla ilgili aşağıdaki bilgiler yardımıyla destekleyici direklerin uzunluklarını hesaplamak istiyor.

- 1. bölümün eğimi %20'dir.
- 3. bölümün eğimi %35'dir.
- 2. bölüm ve 4. bölümlerin eğimleri sıfırdır.

Buna göre Esra'nın binaya girerken kullandığı son destekleyici direğin uzunluğu kaç metredir?

A) 1,1

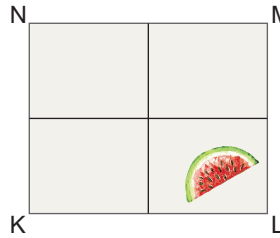
B) 1,4

C) 1,7

D) 2,4





7. Kutay, K, L, M, N olarak adlandırılmış dikdörtgen şeklindeki bir kağıdı aşağıdaki gibi 4 eş parçaya bölmüştür.

Daha sonra bu kağıdın bir parçasına karpuz dilim desenli baskı yapmıştır.

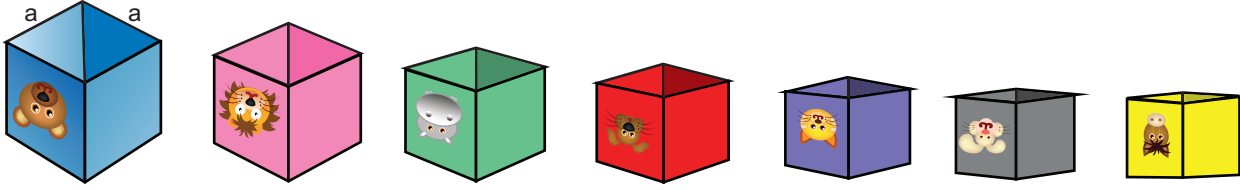


Kutay bu kağıdı önce KL ve NM kenarları çakışacak biçimde ikiye katlayıp tekrar açmış, daha sonra ML ve KN kenarları çakışacak biçimde ikiye katlayıp tekrar açmıştır.

Karpuz dilimi baskısının boyaları kurumadığına göre katlamadan sonra aşağıdaki görüntülerden hangisi olur?

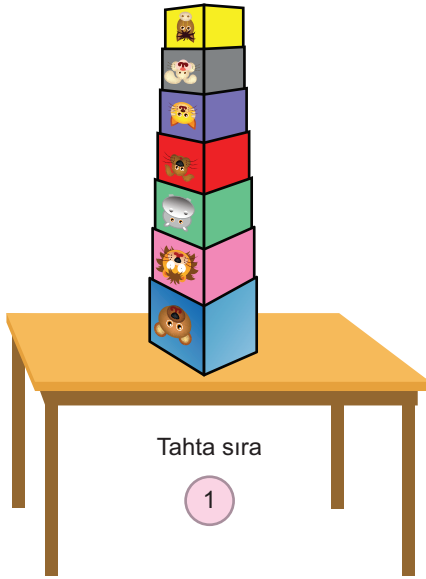


6.



Elif kardeşine ait olan bir denge kule oyununu okula getiriyor. Denge kule oyununda farklı büyüklükte iç içe geçen veya üst üste sıralanan içi boş yedi tane plastik kap bulunmaktadır.

Elif ve üç arkadaşı tahta sıranın üzerinde oyun kaplarını, önce ters çevirerek büyükten küçüğe doğru üst üste daha sonra iç içe geçirerek diziyorlar.



Elif ve arkadaşları, 1 ve 2. durumlarda oyun kaplarının tahta sıraya uyguladığı dik kuvvet ve basınç ile ilgili aşağıdaki yorumları yapıyorlar.

Elif : 1. durumda oyun kaplarının tahta sıraya uyguladığı basınç daha fazladır. Çünkü 1. durumda tahta sıraya etki eden dik kuvvet daha fazladır.

Ayaz : 2. durumda oyun kaplarının sıraya uyguladığı basınç daha fazladır.

Melek : 1. durumda kapların, tahta sıraya uyguladığı basıncın daha fazla olmasının sebebi kapların tahta sıra ile temas eden yüzey alanının daha küçük olmasıdır.

Mert : 1 ve 2. durumlarda oyun kaplarının tahta sıraya uyguladığı dik kuvvetler birbirine eşittir.

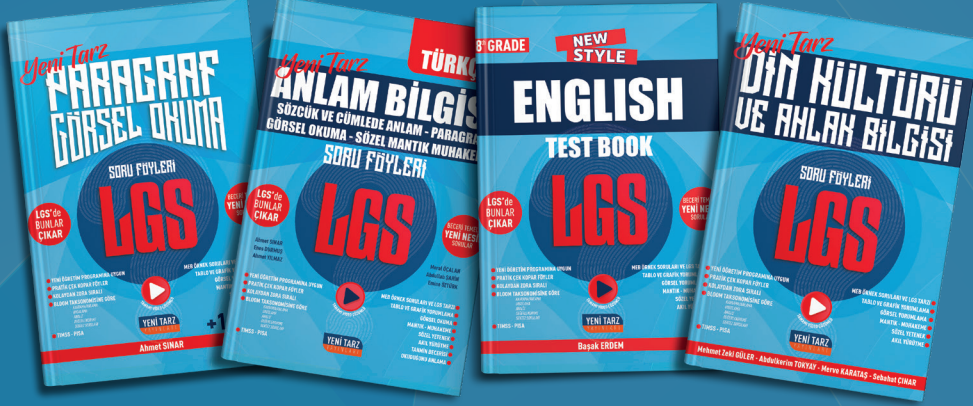

Buna göre hangi öğrencilerin yorumu doğrudur?

A) Elif ve Ayaz

B) Ayaz ve Melek

C) Mert ve Melek

D) Elif, Mert ve Melek



İletişim

Ostim Mahallesi 1207. Sokak
No: 3/C-D Ostim / ANKARA
0 312 386 00 26 - 0 850 302 20 90

 /YeniTarz Yayınları

 /YeniTarz Yayınları

 @YeniTarzYayin