

**GÜMBÜR  
GÜMBÜR**

# SÖZEL YETENEK SORU BANKASI

**YENİ  
NESİL**

**BECERİ  
TEMELLİ**

# LGS

- YENİ ÖĞRETİM PROGRAMINA UYGUN
- PRATİK ÇEK KOPAR FÖYLER
- KOLAYDAN ZORA SIRALI
- BLOOM TAKSONOMİSİNE GÖRE  
KAVRAMA/ANLAMA  
UYGULAMA  
ANALİZ  
DEĞERLENDİRME  
SENTEZ SORULARI
- TIMSS - PISA



TAMAMI VIDEO ÇÖZÜMÜ

**YENİ TARZ  
YAYINLARI**

- MEB ÖRNEK SORULARI VE LGS TARZI
- TABLO VE GRAFİK YORUMLAMA
- GÖRSEL YORUMLAMA
- MANTIK - MUHAKEME
- SÖZEL YETENEK
- AKIL YÜRÜTME

**Ahmet SINAR**

1.



### Malzemeler

- 500 gram kestane
- 1 litre içme suyu
- 1 tatlı kaşığı tuz

### Fırında Kestane Kebap

Evinizin mis gibi kestane kokusuyla dolmasını istiyorsanız fırında kestane tarifimizi denemenizi öneririz.

### Yapılışı

Güzelce yıkanıp temizlenen kestanelerin bombeli kısmı bıçakla enine doğru ya da çarpı işareti şeklinde çizilir. Çizilen kestaneler 1 tatlı kaşığı tuz katılarak hazırlanan tuzlu suda yaklaşık 45 dakika kadar bekletilir. Suyu süzülen kestaneler fırın tepsisine yerleştirilen yağlı kâğıdın üzerine dizilir ve önceden 200 derece ısıtılmış fırında pişirilir. Kestaneler, 25-30 dakika içinde kabukları açılıp rengi koyulaştığında fırından alınır ve soğumaya bırakılır.

**Bu bilgilerden hareketle fırında kestane kebabın yapılışı ile ilgili,**

- I. Kestanelerin yıkanıp çizilmesi
- II. Tuzlu suda 15 dakika bekletilmesi
- III. Kestanenin bekletildiği suyun süzülmesi
- IV. Fırın tepsisine yerleştirilen yağlı kâğıdın üzerine dizilmesi
- V. Önceden 80 derece ısıtılmış fırına verilmesi
- VI. 45 dakika içinde kabukları açılıp rengi koyulaşınca fırından alınması

**aşamalarından hangileri yanlıştır?**

- A) Yalnız I.                      B) I ve III.                      C) III ve IV.                      D) II, V ve VI.

2.

**KAKURO**

Kakuro bir sayı bulmacasıdır. Çengel bulmaca ve sudokunun karışımıdır. Kakuro, diyagramdaki kutulara 1'den 9'a kadar rakamlar doldurulması esasına dayanır. Bunu yaparken bir satırda ya da sütunda daha önce kullanmış olduğunuz bir rakamı kullanmamanız gerekmektedir. Bunun yanında karelerin köşegenlerinde yer alan sayı, size o köşegenin doğrultusunda yazacağınız rakamların toplamının köşegendeki sayıyı vermesi gerektiğini söyler.

**Bu bilgilere göre aşağıdakilerden hangisi kakuro oyununa ait bir bulmacadır?**

A)

B)

C)

D)

3.

Kahvaltıdan sonra Ulu Cami'ye doğru yürüyorum. Ramazanoğlu Halil Bey tarafından 1573 yılında inşa ettirilen camide Selçuklu, Memlük ve Osmanlı tarzı hâkim. Medreseler ise klasik Osmanlı medresesi tarzında yapılmış. Bahçesinden hiç eksik olmayan güvercinlere yem verdikten sonra yol üstündeki eski Kız Lisesine uğruyorum. Sultan Abdülhamid zamanında askerî okul olarak yaptırılan taş bina güzelliğini bugün de koruyor. Cumhuriyet Dönemi'nde Kız Lisesi olarak da değerlendirilen bina, bugün kültür merkezi olarak hizmet veriyor. Buradan ayrılıyor, görmeyi merakla beklediğim Taş Köprü'ye ulaşıyorum. Şehrin sembollerinden olan, Roma Dönemi'nden kalma bu köprü Seyhan ve Yüreğir'i birbirine bağlıyor. 1700 yıllık köprü, dünyanın hâlen kullanılan en eski köprülerinden biri olarak biliniyor. Eskiden 21 gözü olan köprünün onarım çalışmalarından sonra 14 gözünü görebiliyorsunuz. Sabancı Merkez Camisi de en güzel buradan izleniyor. Şanslıysanız caminin nehre düşen yansımaları siz de izleyebilirsiniz.

Seyhan Nehri kıyısından yürüyerek Merkez Park'a ulaşıyorum. Çiçek bahçeleri ve ağaçlardan yaz kış taşan turuncular ile rengârenk bu park, şehrin akciğeri âdeta. Hemen köşesinde yer alan Sabancı Merkez Camisi ise muhteşem görünüyor. Türkiye'nin ve Orta Doğu'nun en büyük camisi ve 1998 yılında tamamlanmış. 20 bin kişi kapasiteli cami klasik Osmanlı tarzında inşa edilmiş. Dışı çiniler, vitraylar ve süslemelerle bezenmiş caminin içi de ayrı güzel.

Cumhuriyet'in ilanından hemen sonra kurulan müze, Türkiye'nin en köklü 10 müzesinden biri. Tarsus, Adana ve çevresinden derlenen antik eserlerin sergilendiği müze bir hayli gösterişli ayrıca. Eski şehrin sokaklarını keşfetmeye Büyük Saat Kulesi'nden başlayıp Yağ Camisi ile devam ediyorum. Yolumun üstündeki Kalaycılar Çarşısı, eski Adana'nın keyfini çıkarmak için birebir. Çay ocaklarında kısa molalar verip ince belli bardaklardan çay içiyorum. Yeni Adana dedikleri bölüme yöneliyorum şehirden ayrılmadan önce. Atatürk Parkı'ndan sonrası Yeni Adana olarak geçiyor. Ziya Paşa Bulvarı, Turgut Özal Bulvarı keşfedeceğim yerler arasında. Çok sayıda kafe, restoran ve mağaza içeren bu bulvarlar Seyhan Barajı'na kadar uzanıyor.

**Aşağıdaki görsellerden hangisi bu metinle ilgili değildir?**

A)



B)



C)



D)



4.

## BALIKLARI TANIYALIM

**Barbun**

17 - 20 cm arasında deęişen boyu ile Ege ve Akdeniz'de yařar. Nisan, mayıs ve haziran aylarında bol ve lezzetlidir. Temmuz ayından itibaren yerini dięer balıklara bırakır.

**Çipura**

Az kılçıklı, sert ve çok lezzetli bir balıktır. Üreme zamanı ekim ve aralık ayları olan çipura, Ege kıyılarında yařar. Ocak, řubat ve mart aylarında lezzetiyle adından söz ettirir.

**Hamsi**

“Uzun ve sivri balık” anlamındaki ismini Lazca ve Gürcüceden alan Karadeniz'in ünlü sakini olan bu balık, ekim ayının sonlarına doęru avlanır. Sürüler hâlinde yařayan hamsi, ülkemizde en çok tüketilen balık unvanına sahiptir.

**Kefal**

Üreme mevsimi yaz ayları olan pullu ve çok hızlı bu balık, kış aylarında beyaz ve lezzetli etiyile sofraların vazgeçilmezidir. Deniz diplerinde yařayan ve 30 - 50 cm boya sahip olan kefal, ülkemizin tüm denizlerinde görülür.

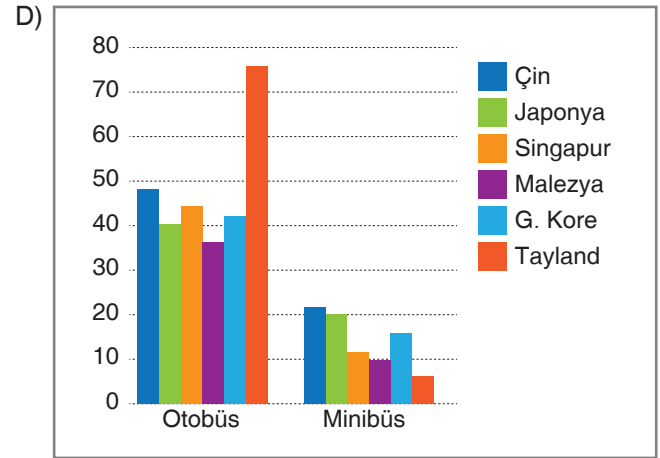
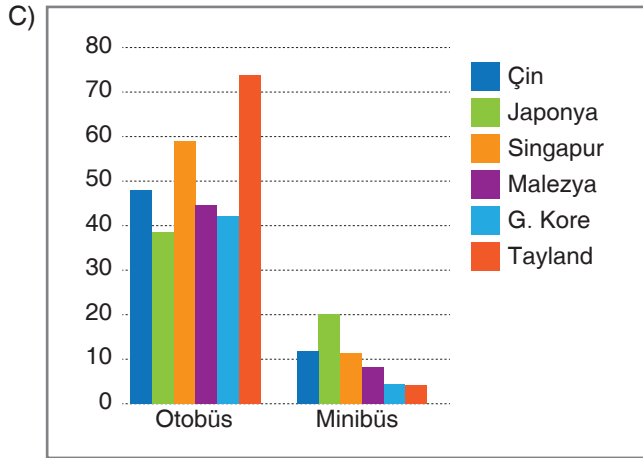
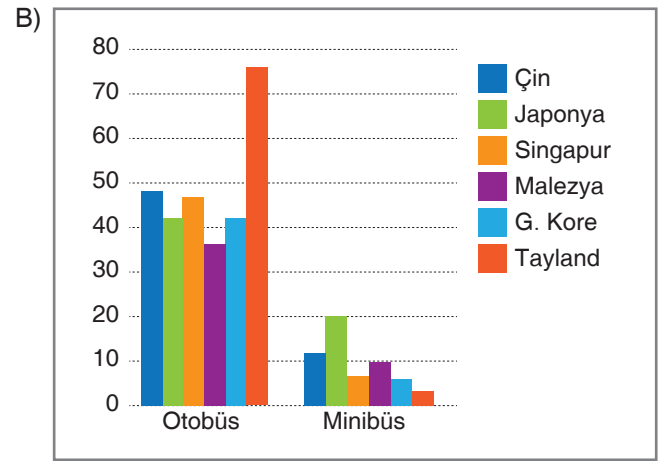
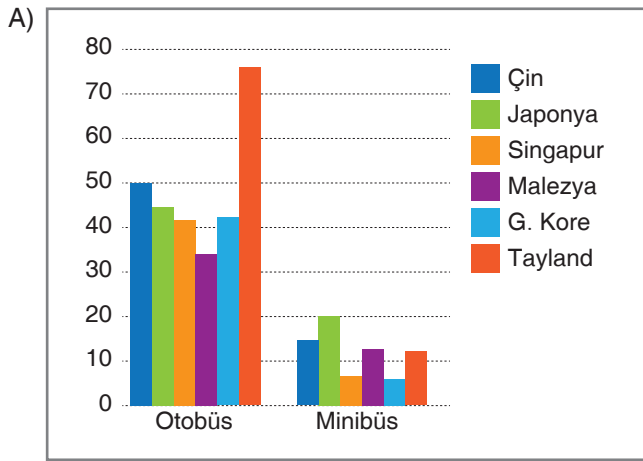
Bu bilgilere göre ařağıdaki tabloda verilen bilgilerden hangisi yanlıřtır?

		Boy	Yařadığı Yer	Üreme Mevsimi	Tüketim Zamanı
A)	Barbun	17 - 20	Ege - Akdeniz	—	Nisan - Mayıs - Haziran
B)	Çipura	—	Ege	Ekim - Aralık	Ocak - řubat - Mart
C)	Hamsi	—	Karadeniz	Ekim	Temmuz - Aęustos - Eylül
D)	Kefal	30 - 50	Marmara - Ege Akdeniz Karadeniz	Haziran Temmuz Aęustos	Aralık - Ocak - řubat

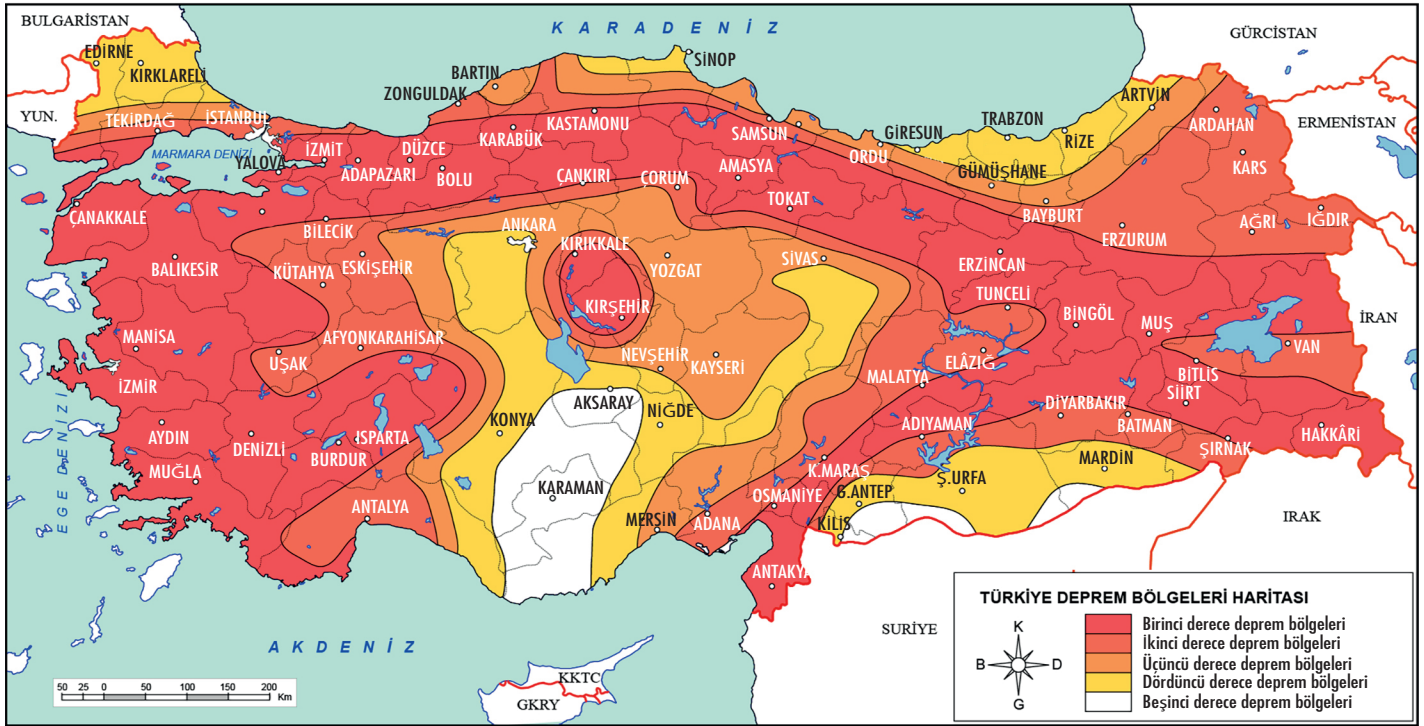
5. Çoğunluğu Uzak Doğu'dan seçilen altı ülkede farklı ulaşım araçlarının kullanım oranlarını belirlemek için yapılan bir araştırmanın sonuçları şu şekildedir:

- Otobüs kullanım oranı en yüksek ülke %74 ile Tayland'dır. Tayland'ı %49 ile Çin ve %47 ile Singapur izlemektedir. %42 oranına sahip iki ülkeyi Japonya ve Güney Kore oluşturur.
- Minibüs ile ulaşım oranında ise en dikkat çeken ülke %20 ile Japonya'dır. Çin %12 ile ikinci sırada, Malezya %10 ile üçüncü sıradadır. Araştırmadaki diğer ülkeler minibüs kullanım oranında %10'un altına düşmüştür.

**Bu bilgilere göre söz konusu ülkelerin ulaşım analizini gösteren grafik aşağıdakilerden hangisidir?**



6.



Bu deprem haritasından hareketle aşağıdakilerden hangisi söylenemez?

- A) İstanbul, deprem riski en yüksek olan ildir.
- B) Niğde'de deprem riski Kırşehir'den azdır.
- C) Ege Bölgesi'nde kıyıya yakın illerde deprem riski yüksektir.
- D) Konya, Rize ve Trabzon'da deprem riskleri eşittir.

# LGS'nin Yeni Tarzı



FOTOKOPI ÇEKMEK  
HAK İHLALIDIR  
**EYTED**  
EĞİTİM YAYINCILIK VE TANITIM

İletişim

Ostim Mahallesi 1207. Sokak  
No: 3/C-D Ostim / ANKARA  
0 312 386 00 26 - 0 850 302 20 90



 /YeniTarz Yayınları

 /YeniTarz Yayınları

 @YeniTarzYayin